

## PLAN DE TRABAJO NIVEL 4

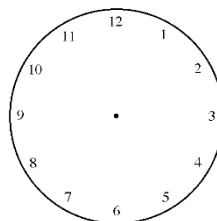
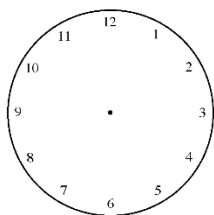
Nombre y apellidos.....Fecha.....

Fecha de nacimiento.....Dni.....Tlf.....

¿Dónde estás? .....¿Con quién estas?.....

**Ponga las agujas en la hora indicada y escriba que hace a esa hora:**

6.45 ..... 12.30.....



**Realiza las siguientes operaciones:**

8376

$628+10+20=$

$45-3-2-1=$

-7535

$5+10+20 =$

$100+300+50=$

**Separa las siguientes palabras por familias:**

*NIÑEZ, DIGNAR, ANIÑADO, NIÑERA, INDIGNARSE, NIÑITO, DIGNO.*

DIGNIDAD	NIÑO

## PLAN DE TRABAJO NIVEL 4

### Observa la siguiente lista de bebidas y contesta:

<b>LECHE:</b> 1.50 euros	<b>BATIDO:</b> 1.75 euros
<b>ZUMO:</b> 2.25 euros	<b>CAFE:</b> 3.75 euros

¿Cuál es la bebida más cara?.....

¿Cuál es la bebida más barata?.....

Calcula lo que vale la leche y el café en total.....

Calcula lo que costaría 3 litros de zumo.....

Ordena las bebidas de la más barata a la más cara:.....

### Escriba 5 palabras que tengan 4 letras: Ejemplo Casa

### Realiza las siguientes órdenes:

- Escriba en la casilla B2 el nombre del Rey
- Escriba en la casilla A3 tu número de teléfono
- Escriba en la casilla D4 el nombre de tu abuelo materno
- Escriba en la casilla E2 el partido político que gobierna
- Escriba en la casilla A4 escriba su edad

	A	B	C	D	E
1					
2					
3					
4					

## PLAN DE TRABAJO NIVEL 4

**Escriba en qué estado de ánimo se encuentra ahora y los motivos:**

Hoy me encuentro.....porque.....

**Siga las instrucciones:**

Pon tu teléfono en el cuadrado superior derecho

Pon tu edad en el cuadrado que está al lado de tu teléfono

Pon el nombre de tu ciudad en el cuadro inferior izquierdo

Pon el nombre de un familiar en el cuadro inferior derecho


**Completa las siguientes frases:**

Si pudiera iría a.....

Me hubiese gustado trabajar en.....

**Señala con un círculo la letra “L” luego cuéntelas: Hay ...” “.**

G	H	N	L	U	I	Q	A	T	J	L	X	D	T
L	P	A	Z	L	R	B	H	L	I	S	C	R	B
L	Y	H	O	P	N	L	S	E	T	U	B	L	S
D	L	W	X	C	V	L	M	Y	O	F	D	P	L

## PLAN DE TRABAJO NIVEL 4

Nombre y apellidos.....Fecha.....

Fecha de nacimiento.....Dni.....Tlf.....

¿Dónde estás? .....¿Con quién estas ?.....

**Resuelva:** En un pantano hay 60 ranas, cada rana ha tenido 10 crías.

¿Cuántas ranas y crías hay en total?

¿Cuántas patas tienen 60 ranas?

5214

8888

1689 -2-1 =

+ 6598

- 357

1000+2000+500=

### Completa las siguientes frases:

Mi color preferido es.....

Mi comida preferida es.....

Me gusta la música.....

La época del año que más me gusta es.....

Me encantaría poder hacer un viaje a .....

### Ordena alfabéticamente las siguientes letras:

E C S T Z A O.....

P U V C S I D.....

## PLAN DE TRABAJO NIVEL 4

**Subraya las palabras con la letra “o”. Colorea el dibujo y lee el texto:**



Este paisaje tiene dos casas. Las casas pertenecen al pueblo llamado Rio-Frio

La casa de la chimenea tiene dos ventanas. En el cielo hay tres pájaros y volando dos nubes.

**Ahora, responde las preguntas:**

¿Cómo se llama el pueblo?.....

¿Cuántas casas hay?.....

¿Cuántos pájaros hay?.....

¿Cuántas ventanas tiene la casa con chimenea?.....

¿Cuántas nubes hay?.....

**Tacha las palabras que tengan A:**

Parador	Música	Pared	Ciclista	Caro
Perro	Enano	Gato	Morro	Roedor
Cielo	Pintura	Puerta	Persiana	Cristal

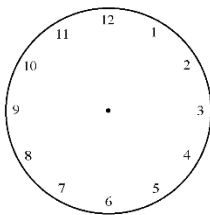
## PLAN DE TRABAJO NIVEL 4

**Escriba los pasos para realizar las siguientes acciones en 3 pasos:**

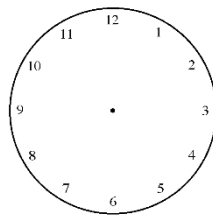
Poner la mesa para comer:	Ir a comprar el pan:
1.	1.
2.	2.
3.	3.

**Ponga las agujas en la hora indicada:**

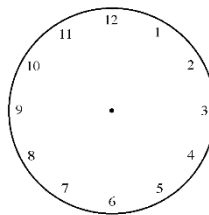
11.15



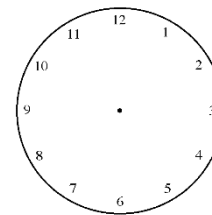
8.00



4.45



2.30



**Ordena de menor a mayor:**

56 79 6 84 46 12 93 26 68 17

**Ahora separa los números mayores de 50 y los menores de 50:**

+50: \_\_\_\_\_ -50: \_\_\_\_\_

**Escriba 10 cosas que vea a su alrededor:**

## PLAN DE TRABAJO NIVEL 4

Nombre y apellidos.....Fecha.....

Fecha de nacimiento.....Dni.....Tlf.....

¿Dónde estás? .....¿Con quién estas?.....

Escriba nombres que empiecen por las siguientes letras:

LETRA	Ciudad	Nombre propio	Color	Parte del cuerpo
M				
S				
R				
A				

Realiza las siguientes operaciones:

$8238$

$37+3+10=$

$510-5-5=$

$-2545$

$40+30+10=$

$900-100-200=$

Siga las siguientes series numéricas:

+7	14		28		42			63	
- 4	40	36							
+10	20				60				100

Escriba los siguientes números en letra:

76.....15.....

39.....68.....

102.....25.....

¿Qué comió ayer?.....

¿Qué le gustaría comer hoy?.....

## PLAN DE TRABAJO NIVEL 4

### Una con flechas e intenta memorizar las parejas:

Ciudad	León
Cantante	Antonio Machín
Animal	Navidad
Festividad	Roma

### Completa con las parejas anteriores:

Ciudad .....	Cantante.....
Animal.....	Festividad.....

### Dibuja y diga para que sirven UNOS CALCETINES:

Dibujo de unos calcetines	Sirven para:
---------------------------	--------------

### ¿Qué hora es?..... Dibújala en el reloj



### Termina de escribir las siguientes palabras:

PE\_\_\_\_\_ SA\_\_\_\_\_ BA\_\_\_\_\_ PI\_\_\_\_\_

MA\_\_\_\_\_ CA\_\_\_\_\_ CU\_\_\_\_\_ FU\_\_\_\_\_

### Escriba el sinónimo (mismo significado) y antónimo (contrario):

	NOCHE	SABIO	ALEGRE	ULTIMO
SINONIMO				
ANTONIMO				



## PLAN DE TRABAJO NIVEL 4

**Escriba 1 palabra con el siguiente número de letras:**

3 letras	4 letras	5 letras	6 letras	7 letras

**Ordena de menor a mayor precio:**

bolígrafo          camisa          piruleta          sofá          barco

.....

**Copia los números de la tabla de la izquierda en la tabla de la derecha:**

8	9	3	4
0	2	4	9
1	6	7	0


**Dibuja** Un círculo y debajo del círculo ponga su edad y la fecha de ayer.

## PLAN DE TRABAJO NIVEL 4

Nombre y apellidos.....Fecha.....

Fecha de nacimiento.....Dni.....Tlf.....

¿Dónde estás? .....¿Con quién estas?.....

### Completa:

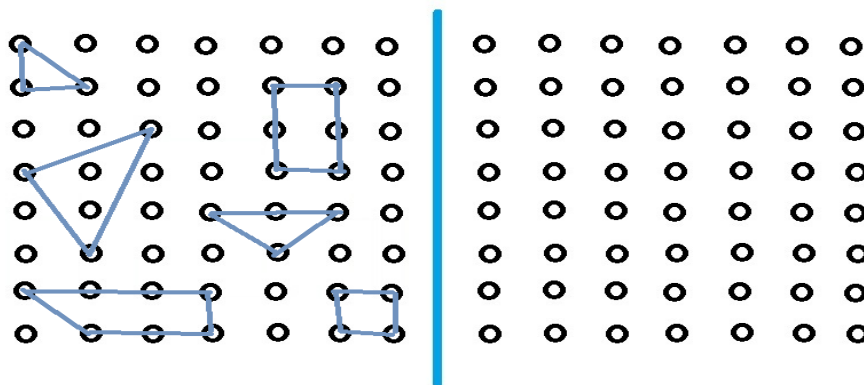
En ..... es la estación del año que más calor hace.

Una mesa tiene cuatro .....

En la cama me tapo con..... y cuando salgo de la ducha me seco con .....

Me abrocho los ..... de mi camisa.

### Repita las mismas figuras al lado:



Busca los 2 n° del 1 al 20 que no aparecen: No aparecen los n°.... y ....

6	1	14	8	17	3	10	12	4
16	15	2	13	5	9	19	11	20

### Siga las siguientes series:

+3		9		15		21		30
+6		18			36		48	60

## PLAN DE TRABAJO NIVEL 4

**Escriba 3 nombres de las siguientes categorías e intenta memorizarlas:**

dulce	bebidas	muebles	partes del cuerpo

**Escriba las palabras que escribió anteriormente:**

dulce	bebidas	muebles	partes del cuerpo

**Completa las siguientes frases con una palabra del cuadro:**

Colegio Mayor Aniversario Pescado Veterinario
---

- Mi hermana .....tiene 4 años más que yo.
- En el mercado venden ..... fresco.
- Voy a llevar a mi perro al .....
- Hoy empieza mi hijo el .....
- El Domingo es mi .....de boda.

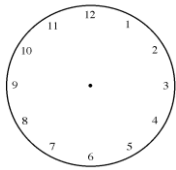
**Piensa en una receta y escriba cómo se hace:**

Receta.....tiempo .....

Ingredientes .....

## PLAN DE TRABAJO NIVEL 4

**Pon la hora que es ahora mismo sin mirar ningún reloj:**



Haga un breve resumen de lo que ha hecho desde que se ha levantado: \_\_\_\_\_

\_\_\_\_\_

\_\_\_\_\_

**Realiza un menú de comidas de 5 días, intenta no repetir:**

	Lunes	Martes	Miércoles	Jueves	Viernes
1ºplato					
2ºplato					
Postre					

**Resuelva las siguientes operaciones:**

$5+7+8=$

$7 \times 4=$

$9-7=$

$12 \times 2=$

$22+11=$

$32+7=$

## PLAN DE TRABAJO NIVEL 4

Nombre y apellidos.....Fecha.....

Fecha de nacimiento.....Dni.....Tlf.....

¿Dónde estás? .....¿Con quién estas?.....

### Completa:

Las vacas comen..... El salmón vive en el .....

Mi nombre tiene..... vocales y ..... consonantes.

El río que más cerca pasa por mi ciudad se llama.....

### Realiza las siguientes operaciones:

2834	5126	16010
+ 4719	-4292	- 2351

### Escriba tres nombres de las siguientes categorías:

Nombres propios de mujer:.....

Aves: : .....

### Dibuja y contesta acerca de UN RELOJ:

Dibujo de un reloj	Sirve para:
	Puedo comprarlo en:

Las 3 letras del abecedario que faltan son: \_ , \_ y \_.

A-B-C-D-E-G-H-I-J-K-L-LL-M-N-Ñ-P-Q-R-S-T-U-V-W-Y-Z

## PLAN DE TRABAJO NIVEL 4

**Resuelva:** Ayer fuimos al mercado y compramos 6 kg de tomates cuyo precio era de 1.5€ ¿Cuánto dinero nos gastamos?

Si llevaba un billete de 10€ ¿cuánto nos devolvieron?

### Ordena los siguientes meses del año:

\_\_\_ Octubre                      \_\_\_ Agosto                      \_\_\_ Septiembre  
\_\_\_ Mayo                          \_\_\_ Julio                          \_\_\_ Diciembre

### Escriba el número anterior y el posterior:

62 - 63 - 64              \_\_\_ 10 \_\_\_              \_\_\_ 16 \_\_\_              \_\_\_ 89 \_\_\_  
\_\_\_ 37 \_\_\_              \_\_\_ 76 \_\_\_              \_\_\_ 19 \_\_\_              \_\_\_ 53 \_\_\_

### Escriba palabras que terminen en:

N	R	O	A
SAXOFÓN	TAPAR	SEMAFORO	COMA

### Siga las siguientes instrucciones:

- Dibuja una X al lado derecho del nº 7
- Dibuja un círculo debajo del nº2
- Dibuja una estrella a la derecha del nº 4
- Raya las casillas vacías

4				
	7			
		5		2
1			6	

## PLAN DE TRABAJO NIVEL 4

**A partir de los siguientes números realiza lo que se le pida:**

**5 8 7 1**

Suma los tres primeros números .....

Suma el segundo, el último y el primer número .....

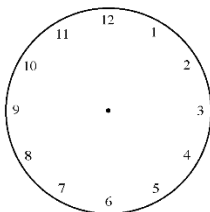
Suma los dos números que están en medio .....

Al número más alto réstale el número más bajo .....

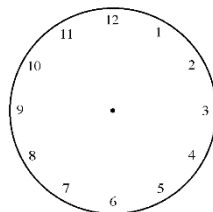
Suma todos los números y réstale 9 .....

**Ponga las agujas en la hora indicada:**

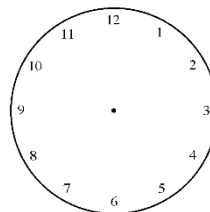
8.15



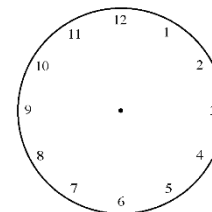
7.00



6.45



2.30



**Dibuja** Un cuadrado, dentro del cuadrado un círculo, dentro del círculo un triángulo y dentro del triángulo el número 6.

## PLAN DE TRABAJO NIVEL 4

Nombre y apellidos.....Fecha.....

Fecha de nacimiento.....Dni.....Tlf.....

¿Dónde estás? .....¿Con quién estas ?.....

### Completa las siguientes frases:

Cuando llueve cojo el.....

El mes que viene es.....

Pienso mucho en.....

Hace mucho calor, voy a encender el .....

Si estas nervioso tómate .....

### Escriba los meses del año en orden. Subraya las letras “E” que haya:

1.	2.	3.	4.
5.	6.	7.	8.
9.	10.	11.	12.

### Ordena las siguientes acciones del DÍA:

\_\_Levantarse

\_\_Cenar

\_\_Ducharse

\_\_Comer

### Ordena de menor a mayor edad:

niño

adolescente

bebé

treintañero

jubilado

.....

### Ordena de menor a mayor las siguientes cifras:

6€

17€

19€

60€

10€

21€

.....



## PLAN DE TRABAJO NIVEL 4


**Escriba una palabra de cada categoría. Memoriza:**

FRUTA	
MONUMENTO	
PROFESIÓN	
COLOR	

**Completa con las parejas anteriores:**

FRUTA	
MONUMENTO	
PROFESIÓN	
COLOR	

**Responda las siguientes preguntas:**



¿Cuántas estrellas hay?.....

¿Cuántas flechas hacia abajo hay?.....

¿Cuántas flechas hacia la izquierda hay?.....

¿Cuántas flechas hacia la derecha hay?.....

¿Cuántas flechas hay hacia arriba?.....

**Resuelva:** En un campo hay 12 olivos, cada olivo da 550 aceitunas.

¿Cuántas aceitunas dan en total?

$$96+6+2=$$

$$52-6-1=$$

$$30 \times 3 =$$

$$9 \times 4 + 2 =$$

## PLAN DE TRABAJO NIVEL 4

**Ponga una X donde corresponda según la letra por la que comiencen:**

	puerta	ojo	suegra	salto	cena	saco	ostra	plato
S								
C								
O								
P	x							

**Escriba el nombre de sus:**

Abuelos maternos.....Abuelos paternos.....

Hermanos.....

**Escriba el nombre de 5 personas que vea habitualmente.....**

## PLAN DE TRABAJO NIVEL 4

Nombre y apellidos.....Fecha.....

Fecha de nacimiento.....Dni.....Tlf.....

¿Dónde estás? .....¿Con quién estas ?.....

### **Subraya las palabras con “M”, luego, lea con atención el texto:**

Juan es un niño de 12 años, nació en Albacete en el seno de una familia muy humilde de 8 hermanos, él es el mayor de todos.

Su madre, Isabel, trabajaba en las labores del hogar, su padre, Luis, trabajaba en el campo.

Desde muy pequeño trabajo en el campo junto con su padre para ayudar en la economía del hogar familiar. Compaginaba el trabajo del campo con el colegio.

**Copia el primer párrafo: Juan**.....

.....

### **Vuelva a leer el texto y contesta las siguientes preguntas:**

¿Cuál es el nombre de nuestro protagonista?.....

¿Cuántos años tiene?.....¿Cuántos hermanos tiene?.....

¿Cómo se llaman sus padres?.....¿Va al colegio?.....

### **Escriba en qué parte de la casa se encuentran los siguientes objetos:**

sal..... calcetines..... peine.....

cortinas..... lavadora..... tijeras.. ..

## PLAN DE TRABAJO NIVEL 4

### Dibuja y contesta:

Una mesa con mantel	Una casa
¿Dónde puedo comprar una mantel?	¿Dónde me pueden asesorar para comprar una casa?

### ¿Recuerda qué dos objetos acaba de dibujar?

.....

**Resuelva:** Ana y Juan juegan a los bolos. Juan tiene un total de 86 puntos. Ana tiene una puntuación el triple que Juan. ¿Cuántos puntos tiene Ana?

$$5487$$

$$425+10+5+5=$$

$$48-2-2-2=$$

$$\underline{-1457}$$

$$12 \times 2 =$$

$$70+70-5=$$

### **Responda a las siguientes preguntas relacionadas con números:**

¿Qué números hay entre el 51 y el 59? .....

¿Qué números hay entre el 68 y el 73? .....

### **Escriba un motivo por el cual una persona puede estar:**

Triste:.....

Enfadado:.....

Alegre:.....

Asustado:.....

## PLAN DE TRABAJO NIVEL 4

**Completa este cuadro con las letras del abecedario:**

A		C		E		G		
J			LL			Ñ		
Q		S	T			W		Y

**Escriba 10 palabras que tengan relación con el INVIERNO:**

.....  
 .....

**Escriba una frase con las siguientes palabras:**

CRISTAL- TRAPO.....

VIAJE-CANSADO.....

**Ordena de menor a mayor número de letras:**

estudiante      bollo      pan      pasteles      gracias

.....